

<範圍：L2-2文化成就-L4>

【劃卡代號：51】

班級： 座號： 姓名：

※答案卡限用 2B 鉛筆劃記，答案請劃記明確；若有劃記錯誤，請擦拭乾淨。分數以電腦讀卡分數為準。

一選擇題：20 題 (1-10 題：每題 4 分；11-20 題：每題 3 分，共 70 分)

1. () 小弘參加旅行團到某城市觀光，拿到了如下的旅遊簡介：「此城市地理位置優越，既連接兩大洲，又位居黑海通往地中海航道的必經之地，曾經先後作為兩個大帝國的首都長達一千六百多年之久。城內有著拜占庭帝國所修築的古城牆、鄂圖曼土耳其帝國華麗的皇宮，以及宏偉的基督教教堂與清真寺等文化遺產，展現了這座城市輝煌悠久的歷史。」根據內容判斷，小弘到訪的城市最可能是右圖何者？

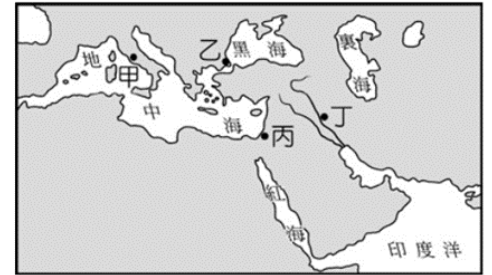


圖 (一)

2. () 甲：中國的佛教是從西域傳入； 乙：唐朝玄奘至西域取經，將佛經帶回長安，促成佛教在中國大流行； 丙：南北朝佛教興盛，長江流域出現三大佛教藝術建築； 丁：佛教至宋朝後，與儒學和道教（道家）結合，形成理學。請問：佛教在中國的發展史，下列何者正確？

(A) 甲乙 (B) 乙丙 (C) 甲丁 (D) 乙丁

3. () 圖 (二) 是某史事的起源地與傳播方向示意圖，下列何者最足以呈現該史事的內涵？



圖 (二)

(A) 研究古典文獻，強調人文主義 (B) 伊斯蘭教擴張，歐洲分佈地區
(C) 教會領袖發起，號召信徒戰爭 (D) 路德教派改革，主張因信得救

4. () 圖 (三) 是四幅歷史不同時期插圖：請問：依甲~丁代表的時期的先後順序下列何者正確？

(A) 甲乙丙丁 (B) 乙丙丁甲
(C) 丙甲乙丁 (D) 乙甲丙丁

5. () 一位知識份子因為自身的虔誠而造成基督教第二次分裂。根據圖 (三) 此位知識份子因何原因導致歐洲宗教多元化？

(A) 甲 (B) 乙 (C) 丙 (D) 丁




圖 (三)

6. () 小丸讀某個歷史事件，將其重點繪製成圖 (四) 的樹狀圖，因寵物貓奶油頑皮，貓爪沾到水彩後踩到圖示，遮蔽史事主題。根據圖的提示判斷，被遮蔽的主題應為下列何者？

(A) 東羅馬帝國 (B) 阿拉伯帝國
(C) 塞爾住帝國 (D) 鄂圖曼帝國

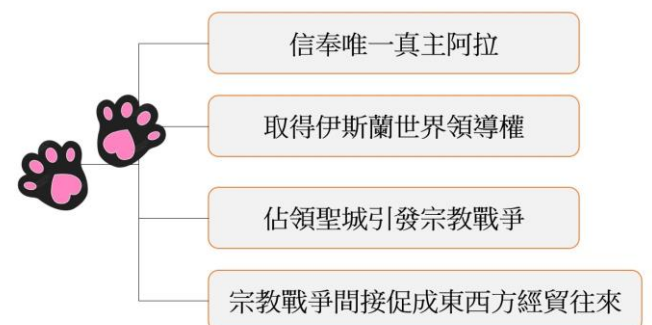


圖 (四)

7. () 圖(五)甲處自西元前四世紀至西元八世紀，官方使用的文字因外來統治者改變而有所不同，這些官方文字使用時間的先後順序最可能是下列何者？

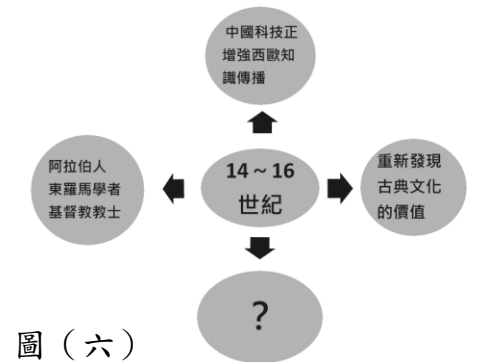
- (A) 希臘文→拉丁文→阿拉伯文 (B) 希臘文→阿拉伯文→拉丁文
(C) 阿拉伯文→拉丁文→希臘文 (D) 阿拉伯文→希臘文→拉丁文



圖(五)

8. () 圖(六)是介紹歐洲某一歷史事件背景與特色，表中的 ? 最適合填入下列何者？

- (A) 揭開宗教改革序幕 (B) 方言文學的興起
(C) 基督教走向多元化 (D) 近代國家的興起



圖(六)

9. () 2019年是達文西逝世500週年，英國皇家郵政發行一系列達文西12幅知名創作手稿紀念郵票，緬懷這位藝術大師，圖(七)是其中一張紀念郵票。請問：這幅圖最可能呈現達文西所處時代何種特色？

- (A) 以抽象手法將主題破壞再重新構圖 (B) 透過繪畫傳遞《聖經》的故事
(C) 宗教色彩濃厚，追求對神的崇拜 (D) 強調人物的獨特與人性的重視

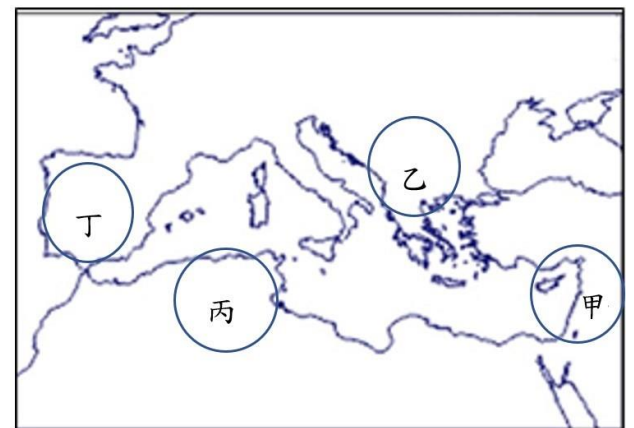


圖(七)

10. () 下文為小道參訪某個古蹟所寫的筆記，此古蹟最可能位於圖(八)中的何地？

今日參訪的古蹟，混合伊斯蘭教和天主教的建築特色。古蹟最早建立於8世紀，是由伊斯蘭政權興建的大清真寺，富麗堂皇。被統治的民族展開漫長的復國運動，15世紀末驅離伊斯蘭政權，新政府命令此古蹟建築物改建為天主教堂。

- (A) 甲 (B) 乙 (C) 丙 (D) 丁



圖(八)

11. () 弘道國中圖書館寒假辦理以「穿《閱》時空」為閱讀主題的班級共讀活動，915班抽到的共讀書箱內容包括：《哈姆雷特》、《神曲》、《十日談》三大套書。請問：從上述書單可知，915班開學後，歷史老師想開下列哪一個時代專題？

- (A) 西元14世紀的方言文學 (B) 西元4世紀的基督教傳播
(C) 西元16世紀的宗教改革 (D) 西元8世紀的伊斯蘭教擴張

12. () 一名戰士的遺言寫道：「守了兩個月，我們僅剩千人，異教徒的十多萬大軍終究攻進了曾是東方基督教徒的都城——君士坦丁堡，自此之後，此城市變成異教徒的都城。」根據判斷，上述的「異教徒」是指？

- (A) 阿拉伯人 (B) 蒙古人 (C) 塞爾柱土耳其人 (D) 鄂圖曼土耳其人。

13. () 西元十七世紀荷蘭傳教士在台灣以新港文向原住民傳教，除了以《聖經》作為教材，更強調努力工作、勤勞節儉才能榮耀上帝，藉此要求原住民積極狩獵並上繳鹿皮，請問荷蘭傳教士是那一個教派？

- (A) 路德教派 (B) 喀爾文派 (C) 耶穌會 (D) 英國國教派

14. () 范閑在周末閱讀到一歷史資料，內容如下：「政府曾經公布命令，督促大家崇敬諸神，卻使許多基督徒陷入危險苦難中，甚多基督徒喪失生命。為此，我們應本著寬大為懷的宗旨，今後他們可以自由表達想法，不再受外力的干擾，可以自由即會舉辦宗教活動，只要他們尊重已公布的政府法律」。此資料文件顯示何種意義？

- (A) 基督教由地下宗教轉而被承認的宗教 (B) 基督教成為帝國人民唯一的信仰宗教
(C) 基督教是中世紀歐洲穩定社會的力量 (D) 基督教和政府妥協不再堅持一神信仰

15. () 小丸以「伊斯蘭文明」為期末歷史課要上台報告主題，下列何者資料最適合介紹給小丸參考？

- (A) (B) (C) (D)

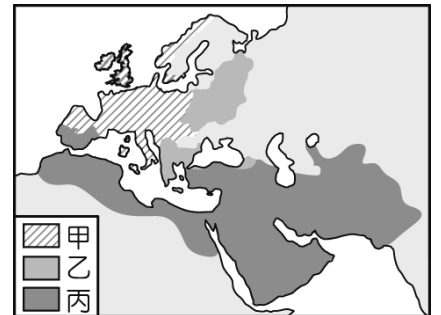


16. () 當宗教權威與世俗政權合而為一時，通常稱為「政教合一」。其特點是宗教領袖同時具有國家元首的身分，宗教的律法同時也是國家通行的法律，國家利益與宗教利益是合一的。請問在宗教改革發生後，那一個國家實行政教合一的制度？

- (A) 英國 (B) 法國 (C) 西班牙 (D) 德國

17. () 圖(九)是 11 世紀後期三個宗教的分布示意圖，圖中甲、乙、丙應分別為下列何者？

- (A) 甲：希臘正教、乙：伊斯蘭教、丙：羅馬公教
(B) 甲：希臘正教、乙：羅馬公教、丙：伊斯蘭教
(C) 甲：羅馬公教、乙：希臘正教、丙：伊斯蘭教
(D) 甲：羅馬公教、乙：伊斯蘭教、丙：希臘正教。



圖(九)

18. () 佛教、基督教與伊斯蘭教是當今世界的主要宗教信仰，下列哪些是三個宗教的共通特色？

甲、曾獲統治者接納；乙、擁有自己的經典；丙、發源於地中海東岸；
丁、受到其他宗教影響；戊、開創後立即廣泛流傳

- (A) 乙丙戊 (B) 乙丁戊 (C) 甲乙丁 (D) 甲丙丁

19. () 「這個帝國興盛時期，疆域廣大，橫跨三洲。皇帝在政治上享有至高無上的權力，同時在宗教上也是上帝的代表，可以任命帝國首都主教，主導教會行事，也常頒布與基督教教義有關的規定。」此一帝國最可能是下列何者？

- (A) 西羅馬帝國 (B) 拜占庭帝國 (C) 亞歷山大帝國 (D) 蒙古帝國

20. () 下列哪些條件使義大利半島成為「文藝復興的搖籃」？

甲、位於東西貿易要道；乙、商人支持文藝創作
丙、學者致力聖經研究；丁、古典文化深植其中

- (A) 甲乙丁 (B) 甲乙丙 (C) 甲丙丁 (D) 乙丙丁

二、題組：10 題 (每題 3 分)

(一) 右圖深色部分為 2016 年信奉同宗教的國際組織會員國在相同信仰下，促成會員國經濟、社會和文化等方面的合作分布圖。請問：



21. () 這個國際組織所涵蓋的大部分部分區域中，在歷史上曾經出現哪個帝國？

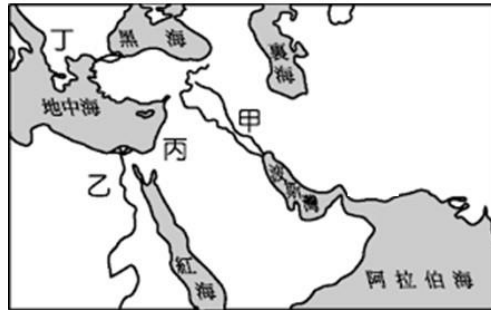
- (A) 蒙古帝國 (B) 鄂圖曼土耳其帝國
(C) 亞歷山大帝國 (D) 東羅馬帝國。

22. () 在會員國境內，下列哪種文化景觀最為常見？

- (A) 蓮花造型的壁飾，穿袈裟的修行者在街頭化緣 (B) 每年十二月會有節慶慶祝活動舉行
(C) 神明遶境，為信徒消災解厄，祈求國運昌榮 (D) 到處可見信徒穿戴頭巾長袍，朗誦清真言。

(二) 2023 年 10 月 7 日哈瑪斯 (Hamas) 的戰士自加薩地區 (Gaza) 闖入以色列攻擊、以色列官方對外宣稱哈瑪斯攻擊，至少造成以色列人民 1400 人死亡，故以色列政府決定還擊，對加薩密集轟炸，至今以巴戰火未歇，導致「某」宗教聖城的觀光業好不容易才從 COVID-19 疫情蕭條兩年多復甦起色，結果因以巴衝突，宛如迷宮般狹窄曲折的商業街上，大多數店家暫停營業，少數膽子夠大開門做生意的商家則依舊日復一日等不到觀光客上門。請問：

23. () 「某」宗教聖城是指哪一城市？
 (A) 耶路撒冷 (B) 伊斯坦堡 (C) 麥加 (D) 巴格達
24. () 以巴衝突不是第一次因戰爭波及此聖城，早在中世紀就有不同族群因聖城爆發衝突，史稱何戰役？
 (A) 波希戰爭 (B) 亞歷山大東征 (C) 怛羅斯之役 (D) 十字軍東征
25. () 聖城位於右圖哪一地點？
 (A) 甲 (B) 乙 (C) 丙 (D) 丁



(三) 宗教改革後，五名立場不同的神職人員恰好參加同一場神學研討會。研討會進行之際，他們為自己信仰的教派進行辯論，請針對右圖圖中的發言回答第 26 至 27 題：

26. () 根據 E 神職人員的論述，此教派後續發展會朝下哪一改革方向進行？

- (A) 受文藝復興運動影響，主動傳播科技知識
 (B) 面對新教的挑戰，積極往世界推廣教義
 (C) 至聖地朝拜受阻，爭取基督教國家協助
 (D) 憑著對真主的信仰，藉戰爭擴張傳教據點。
27. () 長老教會的馬偕在台傳教，足跡包含台北、淡水、基隆，甚至最遠到桃竹苗一帶，他傳教 20 多年回憶都被收錄在《台灣遙寄》一書。請問馬偕與圖中哪一神職人員屬於同一教派？



- (A) A (B) B (C) D (D) E
28. () 神職人員 A、D 應屬於哪一教派？
 (A) 羅馬公教、喀爾文教派 (B) 英國國教派、路德教派
 (C) 羅馬公教、路德教派 (D) 路德教派、喀爾文教派

(四) 小道近日迷上一款有關世界建築文化遊戲《Minecraft》，下載且註冊遊戲成功後，要開始挑戰關卡時，畫面出現下列兩大建築物，並且附上文字說明：正確完成第 29~30 題建築相關的題目，才能和世界各國玩家進行《Minecraft》競賽：

甲



乙



29. () 羅馬建築最大的貢獻就是發明了混凝土和圓拱，在羅馬統治時期大量應用成為著名的藝術風格代表（代表性建築之一：甲）。請問：下列何地較難看到羅馬建築遺跡？
 (A) 西班牙 (B) 阿拉伯半島 (C) 法國 (D) 義大利
30. () 聖索菲亞大教堂（乙建築）在 15 世紀後成為清真寺，基本上保留原本的基礎及樣貌，只在四周增建尖塔，內部人物圖像也未破壞僅以石膏塗蓋。請問改建為清真寺跟哪一帝國有關？
 (A) 阿拉伯帝國 (B) 拜占庭帝國 (C) 鄂圖曼帝國 (D) 塞爾柱帝國。